

令和6年度 第1回 中学入学試験

社 会

試験開始の合図があるまで、この問題冊子の中を見てはいけません。

注意事項^{こう}

1. 問題冊子と解答用紙を回収するので、両方に受験番号・氏名を記入すること。
2. この問題冊子は、11 ページあります。
3. 問題冊子や解答用紙によごれや印刷されていないところがあったら、
手を挙げて試験監督^{かんとく}を呼ぶこと。
4. 解答はすべて、解答用紙へ記入すること。

受験 番号					氏名
----------	--	--	--	--	----

1 次のA～Cを読んで、あとの問いに答えなさい。

A 私は、645年、中臣鎌足らと蘇我氏をたおし、「①大化の改新」を行いました。そして、豪族の力をおさえて、天皇中心の国づくりを目指しました。また、朝鮮半島で新羅と戦っていた百済に援軍を出しましたが敗れました。その後、668年に即位をして天智天皇となりました。

問1 私の名と私が活躍した時代の説明の組み合わせとして正しいものを次のア～エから一つ選び、記号で答えなさい。

【人物の名】

a 中大兄皇子

b 聖徳太子

【時代名】

あ. 仏教の力によって平和な世の中をつくろうと法隆寺が建てられた。

い. 現在の日本風の住居のもとになった書院造が生まれた。

ア. a - あ

イ. a - い

ウ. b - あ

エ. b - い

問2 文中の下線部①の方針と政治のしくみとしてあやまっているものを次のア～エから一つ選び、記号で答えなさい。

ア. 仏教を深く信じるようにしなさい。

イ. 豪族のもっていた土地と人民は、すべて朝廷のものとする。

ウ. 戸籍をつくり、それにもとづいて土地を人民に分け、耕作させる。

エ. 地方を国別に分け、役人(国司)に治めさせる。交通を整備する。

問3 Aの時代のできごとア～ウを古い順にならびかえ、記号で答えなさい。

ア. 冠位十二階を定める

イ. 小野妹子を送る

ウ. 十七条の憲法を定める

B 私が14歳さいのときに平治の乱で平清盛に敗れ、伊豆の蛭ヶ小島ひるがこじまに流されました。1180年に兵をあげ、1185年に平氏をほろぼしました。そして、後白河上皇より、諸国に守護・(②)をおく権限を認められ、鎌倉を中心に勢力を広めました。その後、私は1192年に③征夷大將軍に任じられました。

問4 文中の私の名を答えなさい。

問5 文中の空らん (②) にあてはまる語を漢字で答えなさい。

問6 文中の下線部③の將軍(幕府)と御家人とは「御恩と奉公」の関係で強いつながりをつくりました。次のア～ウから「御恩」に関する説明を**すべて**選び、記号で答えなさい。

- ア. 將軍のために命をかけて戦う。
- イ. 手がらにに応じて、領地をあたえる。
- ウ. 御家人の領地をみとめる。

C 私は薩摩藩(現鹿児島県)の下級武士の家に生まれました。④1866年に土佐の坂本龍馬の仲介ちゆうかいのもと、長州藩と薩長同盟を結びました。その後、新政府軍の指揮をとり、旧幕府軍側の勝海舟と話し合いで江戸城の無血開城に成功しました。⑤明治時代になると、征韓論せいかんろんをとなえて政府内で対立し、板垣退助らとともに政府を去りました。1877年、西南戦争を起しましたが敗れ、自害しました。

問7 文中の私の名を答えなさい。

問8 文中の下線部④以前のできごととして**あやまっている**ものを、次のア～エから一つ選び、記号で答えなさい。

- ア. 日米修好通商条約を結んだ。
- イ. 徳川慶喜が政権を朝廷に返した。
- ウ. 薩英戦争が起こった。
- エ. 安政の大獄が起こった。

問9 文中の下線部⑤の明治時代はじめの人々の生活の変化について**あやまっているもの**を

次のア～エから一つ選び、記号で答えなさい。

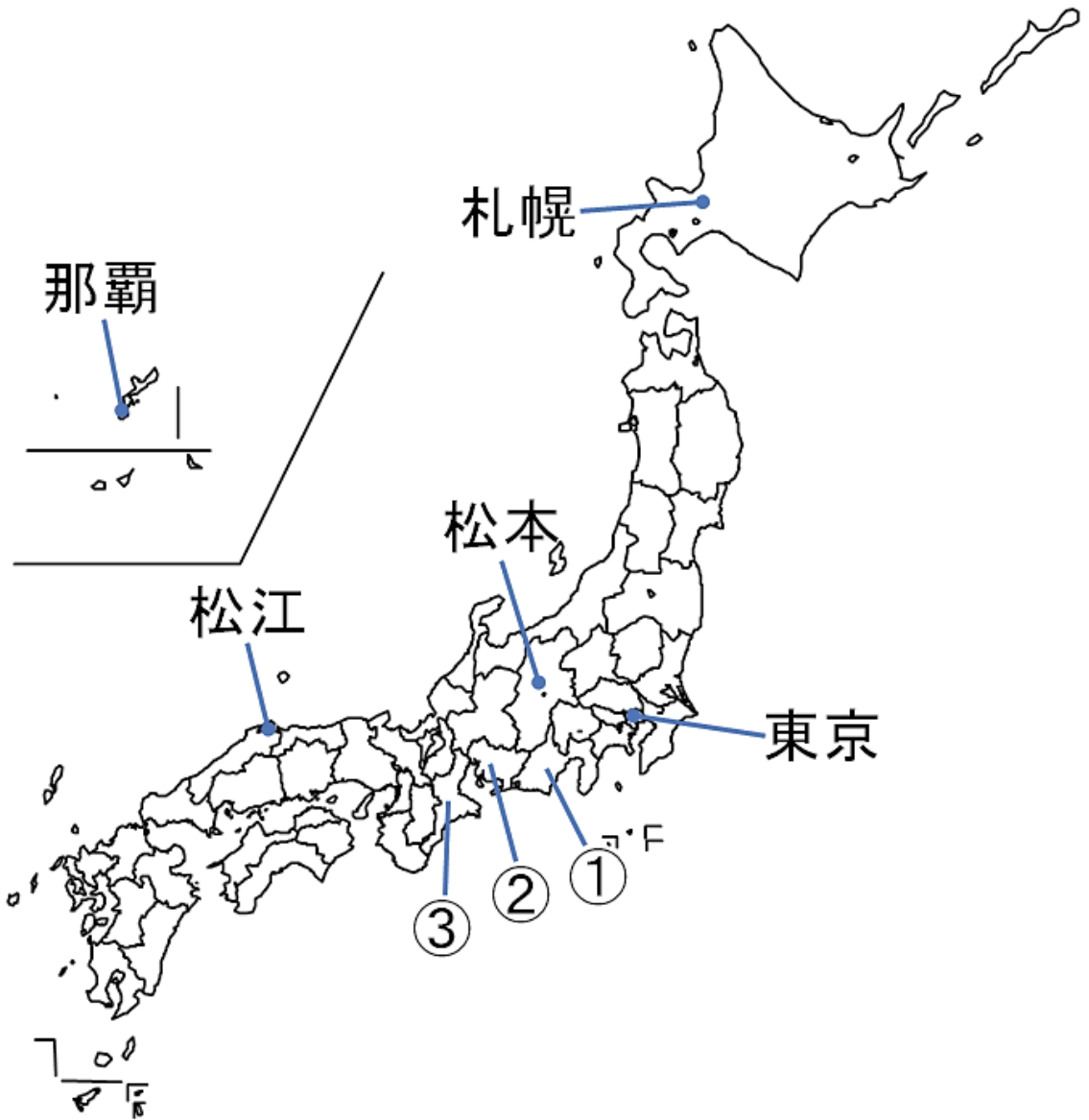
ア. 太陽^{たいよう}暦^{れき}が採用された。

イ. 郵便制度が始まった。

ウ. ラジオ放送が始まった。

エ. 牛なべが流行した。

2 日本²の領域・産業・気候について、日本地図や統計表、グラフなどを見て、あとの問いに答えなさい。



問1 日本²の東西南北端に位置する島について、位置と島名の組み合わせが正しいものを次のア～エから一つ選び、記号で答えなさい。

- ア. 東端－与那国島
- イ. 西端－尖閣諸島
- ウ. 南端－南鳥島
- エ. 北端－択捉島

問2 日本と隣り合う国としてあやまっているものを次のア～エから一つ選び、記号で答えなさい。

- ア. 韓国
- イ. 中国
- ウ. ベトナム
- エ. ロシア

問3 工業に関する統計について、次のⅠ～Ⅲに答えなさい。

都道府県ごとの製造品等出荷額の割合（2022年）

A	%	B	%
愛知県	40.0	愛知県	13.4
静岡県	6.5	兵庫県	10.9
神奈川県	5.4	千葉県	9.7
広島県	4.8	大阪府	7.8
福岡県	4.3	広島県	7.1
群馬県	4.2	岡山県	5.9
その他	34.8	その他	45.2

経済産業省：2022年経済構造実態調査 製造業事業所調査 「地域別」統計表データ

Ⅰ 表A・Bはそれぞれ、鉄鋼業か輸送用機械器具製造業のどちらかをあらわしています。また、前ページの日本地図中 ①～③のいずれかは、表A・Bの1位に位置する愛知県をしめています。

輸送用機械器具製造業の製造品等出荷額と、愛知県の位置との組み合わせとして正しいものを次のア～カから一つ選び、記号で答えなさい。

	輸送用機械器具 製造業の 製造品等出荷額	愛知県の位置
ア.	表A	①
イ.	表A	②
ウ.	表A	③
エ.	表B	①
オ.	表B	②
カ.	表B	③

Ⅱ 次の i・ii の文を読み、i・ii の文の○×の組み合わせとして正しいものを次のア～エから一つ選び、記号で答えなさい。

- i 愛知県と静岡県はいずれも中京工業地帯ちゅうけいに属する。
- ii 表A・Bの上位都道府県には、中国地方の県はふくまれていない。

- ア. i・iiの文ともに○
- イ. iの文は○、iiの文は×
- ウ. iの文は×、iiの文は○
- エ. i・iiの文ともに×

Ⅲ 解答用紙にある地図に、表Bにあげられている6つの都道府県をすべてぬりつぶしなさい。

【下書き用】

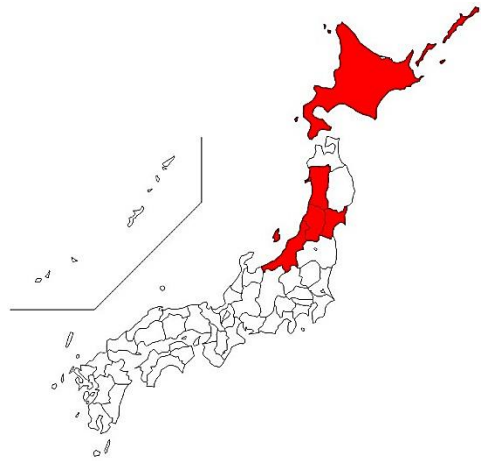


問4 次の図ア～エのうち、^{すいとう} ^{しゅうかくりょう} 水稲の収穫量上位5位（2022）をあらわした図を一つ選び、記号で答えなさい。

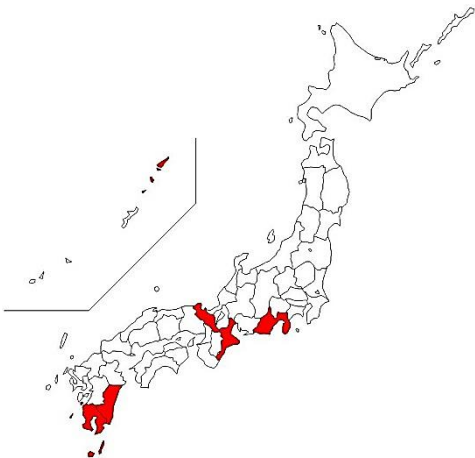
ア.



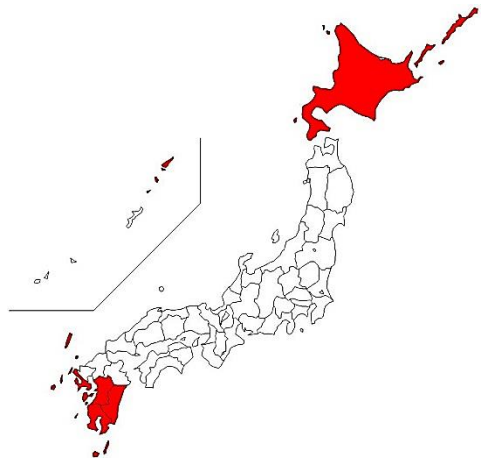
イ.



ウ.

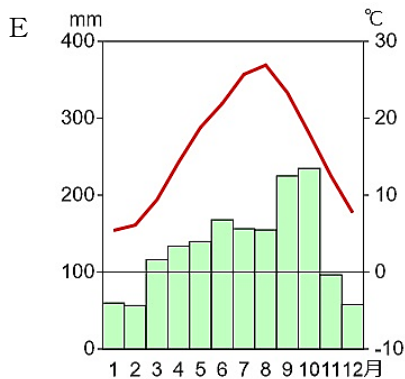
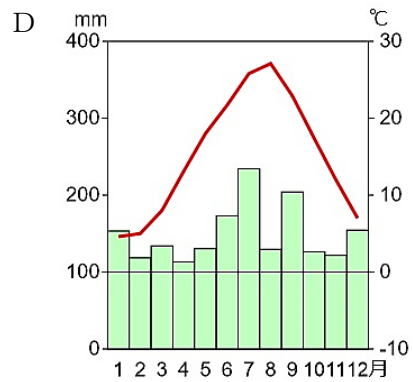
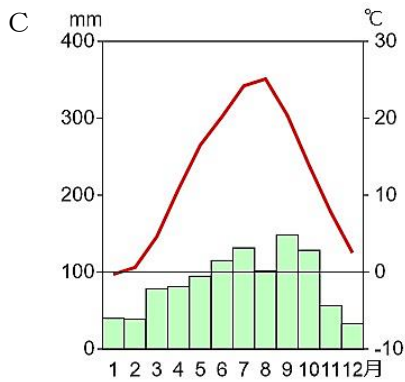


エ.



問5 次のC～Eの気温と降水量のグラフは、東京・松江・松本のいずれかのもので、次のI・IIに答えなさい。

I グラフと都市名の組み合わせとして正しいものを次のア～カから一つ選び、記号で答えなさい。



(雨温図作成サイト

(<https://ktgis.net/service/uonzu/>)

で作成)

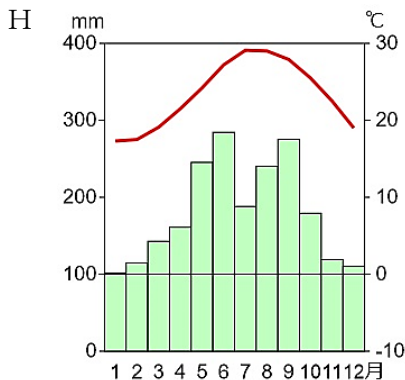
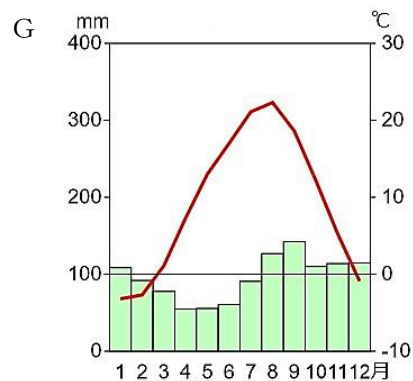
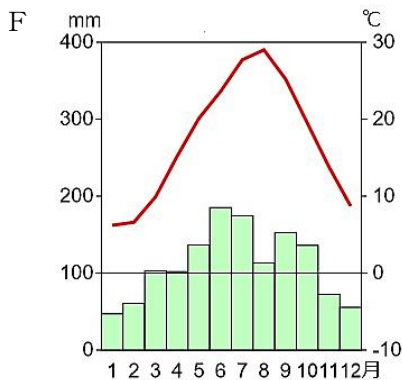
	C	D	E
ア.	東京	松江	松本
イ.	東京	松本	松江
ウ.	松江	東京	松本
エ.	松江	松本	東京
オ.	松本	東京	松江
カ.	松本	松江	東京

II 東京・松江・松本のうち、標高がもっとも高いと考えられるところを一つ選び、都市名を答えなさい。

問6 次の文は、札幌と那覇の気候について気温と降水量のグラフをもとに説明したものです。文中の空らん①～④にあてはまる語句の組み合わせとしてふさわしいものを次のア～カから一つ選び、記号で答えなさい。

札幌は日本の中でも ①〔北・西・東〕に位置する。気温に注目すると、とくに冬の気温は低く、氷点下になる日が多い。日本における最低気温の記録(−41.0℃)が観測されたのは北海道であった。それらをふまえると、気温と降水量のグラフは ②〔F・G・H〕になる。

那覇は日本の中でも ③〔南・西・東〕に位置する。降水量に注目すると、夏から秋にかけて台風が来るため、降水量が多くなり、台風に伴う被害ともなひも出ることがある。それらをふまえると、気温と降水量のグラフは ④〔F・G・H〕になる。



(雨温図作成サイト

(<https://ktgis.net/service/uonzu/>)

で作成)

- ア. ①：北、②：H、③：南、④：F
 イ. ①：北、②：G、③：南、④：H
 ウ. ①：西、②：G、③：東、④：H
 エ. ①：西、②：F、③：東、④：G
 オ. ①：東、②：F、③：西、④：G
 カ. ①：東、②：H、③：西、④：F

3 和子さんと先生の会話を読み、あとの問いに答えなさい。

和子：先生、最近「平和」についてよく考えることがあるんです。

先生：確かに、最近の世界情勢を見ると心配になるね。

和子：このような戦争や紛争^{ふんそう}を止める手立てはないのでしょうか。

先生：国際連合がその役目を担っています。

和子：しかし、国際連合があるのにも関わらず戦争や紛争^やは止んでいません。

先生：和子さんの言う通り、国際連合には戦争や紛争の解決のために話し合う（①）があります。5常任理事国と10非常任理事国で話し合うのですが上手くいっていないのが現状です。

和子：なぜですか？

先生：常任理事国が（②）を使うことが原因の一つです。

和子：それを使わせない方法はないのですか。

先生：全加盟国が参加する③総会で、（②）を使った国がその理由を説明することになりました。このようなことを踏まえ、国際連合の改革が叫ばれています。

問1 文中の空らん（①）・（②）にあてはまる語句を漢字で答えなさい。

問2 下のSDGs17の目標は、下線部③の総会において2015年9月に加盟国の全会一致^{ぜんかいいっち}で採択^{さいたく}されました。そして、地球上の「（※）（no one will be left behind）」と誓^{ちか}いました。では、この空らん（※）にはいる言葉を次のア～エから一つ選び、記号で答えなさい。

ア. 持続可能な開発目標

イ. 人の心の中に平和のとりでをきずかなければならない

ウ. 誰一人取り残さない^{だれ}

エ. すべての子どもに、すべての権利を

SUSTAINABLE DEVELOPMENT GOALS



和子：以前ニュースで、ある国の指導者が核兵器の使用をほのめかしたのを見ました。とても怖いことです。

先生：私も同じことを感じました。さて和子さん、核兵器のない世界に向けてどのようなことがあるか知っていますか。

和子：④第1回原水爆禁止世界大会が日本でおこなわれたことを知っています。

先生：よく知っていますね。他に知っていることはありますか。

和子：日本は⑤平和主義を原則とし、唯一の被爆国として⑥非核三原則があります。

先生：そうですね。日本は唯一の被爆国として世界に訴える必要がありますね。

和子：しかし、⑦日本は核兵器禁止条約には調印していません。

先生：そうですね。和子さん、どうしてなのかわざひ調べてみてくださいね。

問3 文中の下線部④は世界で最初に原子爆弾が落とされた場所でおこなわれました。その都市名を漢字で答えなさい。

問4 文中の下線部⑤は日本国憲法の三原則の一つです。この平和主義に関することが書かれているのは、憲法の前文と第何条ですか。答えなさい。

問5 文中の下線部⑥について、非核三原則を答えなさい。

問6 文中の下線部⑦について、以下が日本政府の考えです。文中の空らん（※）に入る漢字1字を答えなさい。

日本は唯一の戦争被爆国であり、政府は、核兵器禁止条約が目指す核兵器廃絶という目標を共有しています。一方、北朝鮮の核・ミサイル開発は、日本及び国際社会の平和と安定に対するこれまでにない、重大かつ差し迫った脅威です。北朝鮮のように核兵器の使用をほのめかす相手に対しては通常兵器だけでは抑止を効かせることは困難であるため、日（※）同盟の下で核兵器を有する（※）国の抑止力を維持することが必要です。

核軍縮に取り組む上では、この人道と安全保障の二つの観点^{こうりよ}を考慮することが重要ですが、核兵器禁止条約では、安全保障の観点^ふが踏まえられていません。核兵器を直ちに違法化^{いほう}する条約に参加すれば、（※）国による核抑止力の正当性を損ない、国民の生命・財産を危険に晒^{さら}すことを容認することになりかねず、日本の安全保障にとっての問題^{じやつき}を惹起します。また、核兵器禁止条約は、現実に核兵器を保有する核兵器国のみならず、日本と同様に核の脅威に晒されている非核兵器国からも支持を得られておらず、核軍縮に取り組む国際社会に分断をもたらしている点も懸念^{けんねん}されます。

（後略）

4 次の新聞記事を読んで、あとの問いに答えなさい。

育児女性7割仕事両立

就業女性最多3035万人

総務省調査

総務省は21日、2022年の就業構造基本調査を公表した。未就学児の育児をしている女性のうち、仕事と両立している人の割合は73.4%で、17年の前回調査から約9%上昇し過去最高だった。「育児をしている」と回答した調査対象者のうち就労者が占める割合から推計した。同省は、短勤務など両立に向けた制度の活用が背景にあるとみている。

22年10月1日時点の同調査によると、就業者数の総数は6706万人。うち女性は3035万人で過去最多となった。仕事をしている女性の割合も53.2%に上り、過去最高を更新した。女性の就業割合を年齢別にみると、生産年齢人口（15〜64歳）で72.8%、25〜39歳では81.5%だった。25〜39歳で8割を超えるのは初めて。

育児をしている人は男性443万人、女性521万人で、計965万人だった。

調査対象者の男女に「育児をしているか」を聞き、人数を推計した。うち仕事をしている人は、前回から60万人減の821万人で、男性439万人、女性383万人。育児をしている人のうち仕事をしている割合は、男女合わせて約6割増の85.2%で、これまでで最も高かった。男性の割合は99%で、横ばいだった。過去1年間に出産・育児を理由に離職した人は14.8万人で、前回より6.7万人減った。育児休業の利用率などが要因とみられる。介護や看護のために離職した人は前回から7000人増えて10.6万人。今回の調査では、コロナ禍や働き方改革の進展を受け、過去1年間でのテレワークの実施状況も調べた。就業者のうち19.1%にあたる1265万人が「実施した」と回答した。

調査は国民の仕事の状況を調べるため5年ごとに行っている。今回は15歳以上の約108万人を対象に実施し、全体状況を推計した。

育児と仕事を両立している女性の割合の推移

※就業構造基本調査結果に基づき作成

年	両立している割合(右目盛り)
2012	64.4%
17	68.4%
22年	73.4%

育児中の女性の就業状況

年	就業者数(左目盛り)	非就業者数(右目盛り)
2012	283万人	238万人
17	383万人	138万人
22年	383万人	138万人

(読売新聞 朝刊1面 令和5年7月22日 一部改変)

問1 上の記事の [] にあてはまる数字を答えなさい。

問2 上の記事を読んで、この中に書かれている内容で何に関心がありますか。その関心のある記事の部分をぬきだし、その理由も合わせて書きなさい。

令和6年度 第1回 入学試験 社会解答用紙 和洋九段女子中学校


受験番号


--	--	--	--

氏名

--

1	問1	問2	問3	古	→	→	新
	問4	問5			問6		
	問7	問8		問9			

2	問1	問2	問3	I	II
	問3				
	問4	問5	I	II	問6

3	問1	①	②	問2	
	問3	市	問4	第	条
	問5	核兵器を			
問6					

4	問1
	問2
	選んだ理由